

اختبار الشهر الثاني لمادة التربية الاجتماعية

الصف السابع

\*\*\*\*\*

4

السؤال الأول : ضع المصطلح المناسب بين الأقواس :

- 1- ( ) هو التحول من حال إلى حال بشكل جزئي أو كلي سواء كان تحولاً ايجابياً أو سلبياً
- 2- ( ) الاختلافات والتحويلات التي تطرأ على أية ظاهرة من الظواهر الاجتماعية في فترة معينة من الزمن في مجتمع معين.
- 3- ( ) أنماط سلوكية أو حالات غير مرغوب فيها من بعض أفراد المجتمع.
- 4- ( ) هجرة السكان من الريف الى المدن و وزيادة أعداد سكان المدن.

8

السؤال الثاني : ضع اشارة / أمام العبارة الصحيحة و اشارة X أمام العبارة الخاطئة و صحح الخطأ :

- 1- السبب الرئيسي للهجرات الداخلية هو البحث عن فرص عمل ( ) .
- 2- تغير شكل الأسرة من جوانب التغيير في الأسرة ( ) .
- 3- تغيرت وسائل النقل من استخدام السيارات الى استخدام الحيوانات ( ) .
- 4- أثر التطور التكنولوجي في المجال الصحي الى ارتفاع معدل الوفيات ( ) .
- 5- التزايد السكاني من الأسباب الطبيعية لظهور المشكلات الاجتماعية ( ) .
- 6- من عوامل التغيير في المجتمع الأردني تطور التعليم ( ) .

السؤال الثالث : أ- اذكر اثنين لكل مما يلي :

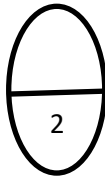
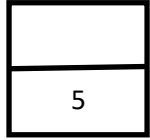
3

1- عوامل التغيير الاجتماعي :

..... و .....

2- مزايا سن الشباب :

3- نتائج الهجرة من الريف الى المدن :



ب- أجب عما يلي :

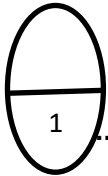
1- صنف التغييرات الآتية الى تغييرات سلبية أو ايجابية :

أ- زيادة نسبة تعليم الإناث .....

ب- انتشار التدخين .....

ج- استخدام الانترنت لفترات طويلة .....

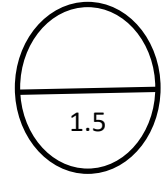
د- مشاركة المرأة في النشاط الاقتصادي .....



2- وضح أثر التغيير في التجارة ..... و السياحة .....

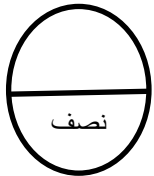
3- بين العامل المسؤول عن حدوث التغييرات الآتية :

أ- زيادة كمية المعلومات : .....



ب- التوسع العمراني : .....

ج- ترشيد استهلاك المياه : .....



4- يصنف الضجيج من المشكلات .....

\*\* اكتب سؤالاً ثم اجب عليه و احصل على علامتين زيادة .

.....  
.....  
.....

انتهت الأسئلة

معلمة المادة : إبتهاال الحيجي

السؤال الأول : أ- اكتب المصطلح المناسب بين الأقواس :

- 1- ( العلوم المتعلقة بتفسير و أسباب نزول و قراءات القرآن الكريم . )
- 2- ( معلمو أبناء الخلفاء و الولاة و القادة و الأعيان من ذوي الخبرة في العصر الأموي . )
- 3- ( العلم الذي يهتم بتدوين الأحداث وفق تسلسلها الزمن . )
- 4- ( العلم الذي اعتمد على التجربة و الملاحظة الدقيقة و عرف بعلم الصنعة . )
- 5- ( المستشفى . )
- 6- ( العلم الذي اهتم بدراسة الاجرام السماوية و هو علم الهيئة . )

السؤال الثاني : املأ الفراغ حسب الاجابة المناسبة :

- 1- من اشهر المساجد ..... و يقع في .....
- 2- من الخلفاء الذين شجعوا على حركة الترجمة .....
- 3- من أشهر المحدثين في العصر الأموي .....
- 4- يُعنى علم العروض بـ.....
- 5- أول من دون التاريخ .....
- 6- أول من ألف السيرة.....
- 7- أشهر الفلاسفة في العصر الأموي .....
- 8- حكيم بني مروان هو ..... وهو أول من اشتهر بعلم .....

4

السؤال الثالث : صل بخط بين العمود الأول و ما يناسبه من العمود الثاني :

العمود الأول	رقم الاجابة	العمود الثاني
من أغراض الشعر الأموي		(1) معاوية بن أبي سفيان
عبد الله بن المقفع		(2) خالد بن زياد
معجم العين		(3) طبيباً
الحرارات		(4) برع في علم الترجمة
يوحنا الدمشقي		(5) الخليل بن أحمد الفراهيدي
ابن آثال		(6) تعدد أغراض الشعر
بناء القصور		(7) مترجم كتاب كلية و دمنة
معاوية بن ابي سفيان		(8) مظاهر اهتمام الأمويون بالهندسة
		(9) المدح

4

السؤال الرابع : اذكر أنواع المستشفيات في العصر الأموي مع الهدف من بنائها :

- 1.....
- 2.....
- 3.....
- 4.....

\*\* اكتب سؤالاً ثم اجب عليه و احصل على علامتين زيادة .

- .....
- .....
- .....

انتهت الأسئلة

معلمة المادة : إبتهال الح يحي

السؤال الأول : اكتب المصطلح المناسب بين الأقواس:

5

- 1- ( ) هي انتقال الأفراد من مكان اقامتهم الاصلي الى مكان آخر و الاستقرار فيه.
- 2- ( ) مجموعة الاجراءات التي تتخذها الدولة في مجال القضايا و المتغيرات السكانية كمعدل المواليد و الخصوبة و الهجرة و تنظيم العلاقة بين السكان و البيئة و التنمية.
- 3- ( ) تركز السكان ضمن تجمعات سكانية محددة نتيجة انتقالهم الى المدن.
- 4- ( ) مناطق نشأت في غياب القانون بعيداً عن التخطيط العام و هي محرومة من المرافق و الخدمات الأساسية.
- 5- ( ) الحجم المناسب من السكان لتحقيق الرفاه الاجتماعي و تحسين مستوى الخدمات و زيادة نسبة الشباب.

السؤال الثاني : املأ الفراغ حسب الاجابة المناسبة :

4

- 1- الجهة المسؤولة عن متابعة مواضيع السكان في الأردن .....
- 2- صافي الهجرة هو .....
- 3- يعود سبب زيادة تيارات الهجرة الى .....
- 4- البطالة هي .....

السؤال الثالث : اعط أمثلة على السياسات السكانية مع ذكر دولة تتبع تلك السياسة :

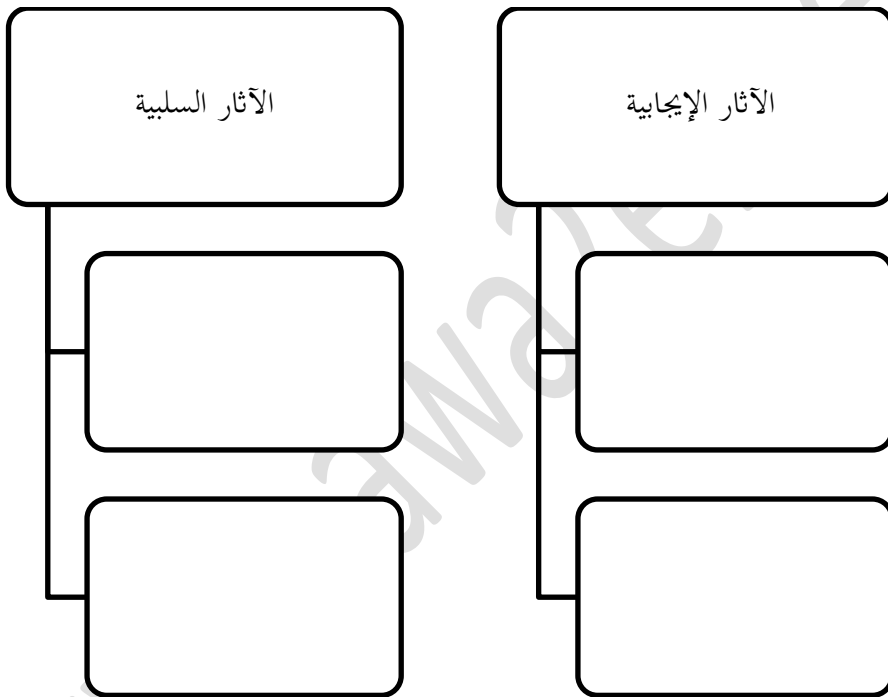
6

1

السؤال الرابع: أ- أكمل الشكل الآتي بآثار الهجرة الهجرة :

5

2



3

ب- أكمل الجدول الآتي بآثار المشاكل المطروحة

مشكلات غذائية	مشكلات اجتماعية	مشكلات بيئية

\*\* اكتب سؤالاً ثم اجب عليه و احصل على علامتين زيادة .

.....  
.....  
.....

انتهت الأسئلة

معلمة المادة : إنتهال الحيحي

www.awa2el.net