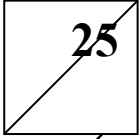


التَّقْوِيمُ الرَّابِعُ فِي مَادَّةِ الرِّيَاضِيَّاتِ

لِلْعَامِ الدِّرَاسِيِّ 2021/ 2.22

الاسْمُ: .....التَّارِيخُ: 2022/ /

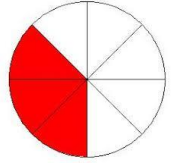
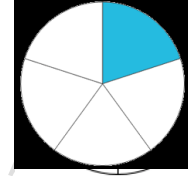
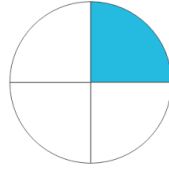
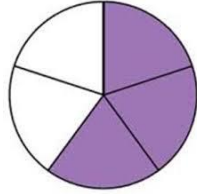

الصف الثالث الأساسي ( ) مدة الامتحان: حصة صفية



مُحَوَّظَةٌ : أُجِيب عَنِ الْأَسْئَلَةِ الْآتِيَةِ جَمِيعِهَا وَ عَدِّهَا (3) أَسْئَلَةً عَلَمًا بِأَنَّ عَدَدَ الصَّفْحَاتِ (3) .

أكتب الكسر الذي يمثل الجزء الملون "3 علامات"


السؤال الأول



\*\*\*\*\*

ما يدل عليه الكسر وأكتبه بالأرقام فيما

2- السؤال الثاني : ألون



يلي:



أربع أسداس



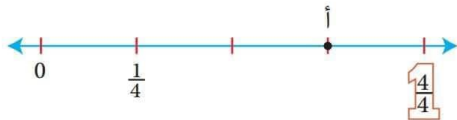
ست أعشار



\*\*\*\*\*

أَكْتُبِ الْكُسْرَ الَّذِي يُمَثِّلُ النُّقْطَةَ أ:

3- السؤال الثالث : أ)



إشارة <

ب) أضع =

باستخدام الرسم التالي :



$\frac{1}{4}$   $\frac{1}{8}$

ج) اللون ما يدل عليه الكسر المجاور وأرتب الكسر ترتيباً

تصاعدياً

$\frac{2}{5}$

$\frac{3}{4}$

$\frac{1}{6}$

\_\_\_\_\_ , \_\_\_\_\_ , \_\_\_\_\_



$\frac{1}{3}$  من 27

$\frac{1}{4}$  من 40

$\frac{1}{6}$  من 18


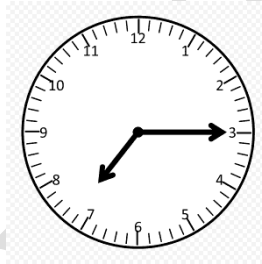

د) أجد ناتج ما يلي

\*\*\*\*\*

الدقائق

السؤال الرابع : أقرأ الساعات الآتية باستخدام

استخدام ( و ) ( إلا )



\*\*\*\*\*

السؤال الخامس : أجد الفترات الآتية فيما يلي :

البداية 5:20 النهاية 5:55 .....

البداية 3:40 النهاية 7:50 .....

\*\*\*\*\*

السؤال السادس :

أستعمل التقويم المجاور لأجيب عن الأسئلة الآتية :

أب						
الأحد	الاثنين	الثلاثاء	الأربعاء	الخميس	الجمعة	السنبت
1	2	3	4	5	6	7
8	9	10	11	12	13	14
15	16	17	18	19	20	21
22	23	24	25	26	27	28
29	30	31				

1 ما اسم هذا الشهر؟

2 كم يوماً فيه؟

3 ما اسم الشهر السابق له؟

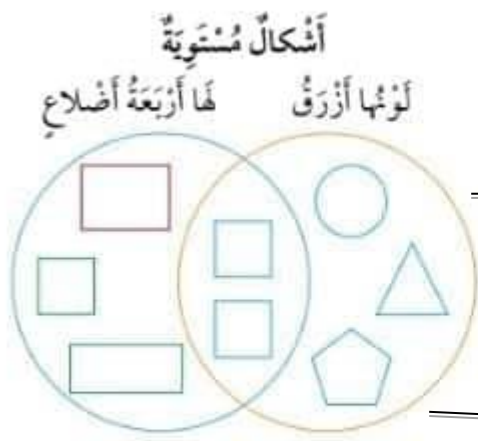
4 ما اسم الشهر التالي له؟

5 ما طول الفترة الزمنية من 5 آب

إلى 30 آب؟

6 ما هو التاريخ بعدة 10 أيام من 11 آب؟

السؤال السابع :

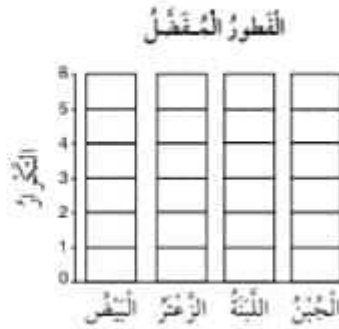


أستعمل شكلٌ في المجاور لأجيب عن الأسئلة الآتية:

- 1 كم شكلاً مستويًا له أربعة أضلاع؟ \_\_\_\_\_
- 2 كم شكلاً مستويًا لونه أزرق وله أربعة أضلاع؟ \_\_\_\_\_
- 3 ما الأشكال المستوية التي لونها أزرق وليس لها أربعة أضلاع؟ \_\_\_\_\_
- 4 كم شكلاً مستويًا له أربعة أضلاع ولونه ليس أزرق؟ \_\_\_\_\_
- 5 كم شكلاً مستويًا في شكلٍ في المجاور؟ \_\_\_\_\_

أكمِلْ جدولَ الإشارات، ثمَّ أَسْتَعْمِلْهُ لِتَمْثِيلِ الْبَيِّنَاتِ بِالْأَعْمِدَةِ:

التكرار	الإشارات	القطور المُفضَّل
		البَيْضُ
		الرَّغَرُ
		اللَّبَنَةُ
		الجُبْنُ



\*\*\*\*\*  
\*\*\*\*\*  
\*\*\*\*\*  
\*\*\*\*\*  
\*\*\*\*\*  
\*\*\*\*\*

السؤال الثامن :

السؤال التاسع :

أحَوِّطُ الكَلِمَةَ المُناسِبَةَ:



مُنتَحِلٌ

مُمْكِنٌ

أَكِيدُ

1 اختيارُ ● مِن الكيسِ المُجاوِرِ:



مُنتَحِلٌ

مُمْكِنٌ

أَكِيدُ

2 اختيارُ ● مِن الكيسِ المُجاوِرِ:



مُنتَحِلٌ

مُمْكِنٌ

أَكِيدُ

3 اختيارُ ● مِن الكيسِ المُجاوِرِ:

www.awa2el.com