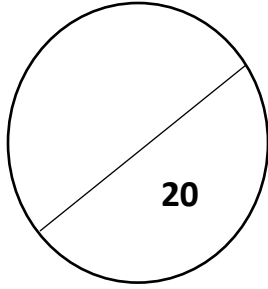




وزارة التربية والتعليم  
مديرية التربية والتعليم الطفيلة  
مدرسة الحسا الاساسية للبنين  
امتحان الشهر الاول



المادة : الرياضيات

الاسم: .....

اليوم : الثلاثاء 2021/10/12

الصف: السادس شعبه ( أ . ب )

السؤال الأول: ضع دائرة حول رمز الإجابة الصحيحة في ما يلي

1) ما هو العدد الصحيح من بين الاعداد التالية

- a) 0.9
- b)  $\pi$
- c)  $\frac{1}{2}$
- d) -8

2) قيمة المقدار هو

$$|-5| + |5| =$$

- a) 0
- b) -10
- c) 10
- d) 25

3) معكوس العدد 67 هو

- a) 67
- b) -67
- c) 0
- d) 76

4) ناتج ضرب  $0 \times (-5) \times 2$  هو

- a) 0
- b) 10
- c) -10
- d) -7

5)  $\square + 12 = -26$

ضع العدد المناسب في المربع لتصبح العبارة صحيحة

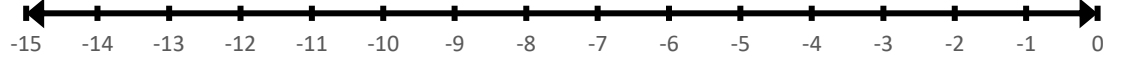
- a) 38
- b) -14
- c) 14
- d) -38

السؤال الثاني: أمثل كل جملة مما يأتي على خط الاعداد

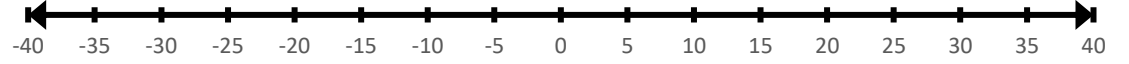
1)  $7 + (-5)$



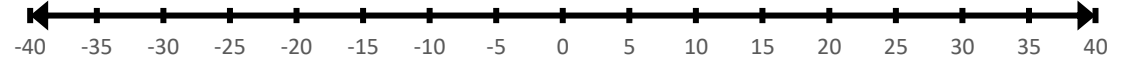
2)  $7 - (-5)$



3)  $7 \times (-5)$



4)  $-7 \times -5$



السؤال الثالث: اوجد ناتج ما يلي

1)  $|-1| + |4 - 6| =$

2)  $-20 + 8 =$

3)  $-10 - 4 =$

4)  $6 - 13 =$

5)  $2^3 \div (-4) =$

6)  $-2 \times (56 \div 7) =$

انتهت الأسئلة

مع تمنياتي لكم بالنجاح

الأستاذ: أحمد الخشاشنة