



ث ز و ج

إدارة الامتحانات والاختبارات

قسم الامتحانات العامة

## امتحان شهادة الدراسة الثانوية العامة لعام ٢٠٢٢ / التكميلي

(وثيقة محمية/محمود)

مدة الامتحان:  $\frac{١٠٠}{٢}$  س

المبحث: الكيمياء (الكليات) + الكيمياء الأساسية / ٢م

اليوم والتاريخ: الأربعاء ٢٠٢٣/١/١١  
رقم الجلوس:

رقم المبحث: 103

الفرع: الزراعي والاقتصاد المنزلي  
اسم الطالب:

اختر رمز الإجابة الصحيحة في كل فقرة مما يأتي، ثم ظلل بشكل غامق الدائرة التي تشير إلى رمز الإجابة في نموذج الإجابة (ورقة القارئ الضوئي) فهو النموذج المعتمد (فقط) لاحتساب علامتك، علماً أن عدد الفقرات (٥٠)، وعدد الصفحات (٥).

١- عدد تأكسد ذرة الفسفور P في الأيون  $\text{HPO}_4^{2-}$  يساوي:

(أ) ٢+ (ب) ٣+ (ج) ٤+ (د) ٥+

٢- في التفاعل الآتي:  $\text{Fe}_2\text{O}_3 + 3\text{CO} \longrightarrow 2\text{Fe} + 3\text{CO}_2$ ، العامل المؤكسد هو:

(أ)  $\text{Fe}_2\text{O}_3$  (ب) CO (ج) Fe (د)  $\text{CO}_2$

٣- مقدار التغير في عدد تأكسد ذرة البروم Br عند تحوله من  $\text{Br}_2$  إلى  $\text{BrO}^-$  هو:

(أ) ١ (ب) ٢ (ج) ٣ (د) ٤

٤- في التفاعل الآتي:  $\text{S}^{2-} + \text{I}_2 \longrightarrow \text{SO}_4^{2-} + \text{I}^-$ ، العامل المختزل هو:

(أ)  $\text{I}^-$  (ب)  $\text{SO}_4^{2-}$  (ج)  $\text{S}^{2-}$  (د)  $\text{I}_2$

٥- نصف تفاعل التأكسد هو:

(أ)  $\text{NO}_3^- \longrightarrow \text{NO}_2^-$  (ب)  $\text{ClO}_3^- \longrightarrow \text{ClO}^-$  (ج)  $\text{CH}_4 \longrightarrow \text{CO}_2$  (د)  $\text{MnO}_2 \longrightarrow \text{MnCl}_2$

٦- يحدث اختزال لذرة الكبريت S في نصف التفاعل:

(أ)  $\text{S}^{2-} \longrightarrow \text{SO}_4^{2-}$

(ب)  $\text{S} \longrightarrow \text{H}_2\text{S}$

(ج)  $\text{H}_2\text{SO}_3 \longrightarrow \text{SO}_4^{2-}$

(د)  $\text{H}_2\text{S} \longrightarrow \text{S}_8$

٧- المادة التي تتأكسد في التفاعل وتتسبب في اختزال غيرها:

(أ) تسمى عاملاً مؤكسداً

(ب) يزداد عدد تأكسدها

(ج) تكتسب إلكترونات أثناء التفاعل

(د) لا يتغير عدد تأكسدها

٨- عدد تأكسد ذرة النيتروجين N يساوي (٣+) ، في:

(أ)  $\text{NH}_3$  (ب)  $\text{N}_2\text{O}$  (ج)  $\text{N}_2\text{O}_3$  (د)  $\text{NO}_2$

٩- في التفاعل  $\text{ClO}_3^- + \text{N}_2\text{H}_4 \longrightarrow \text{NO} + \text{Cl}^-$  يسلك الأيون  $\text{ClO}_3^-$  سلوك عامل:

(أ) مؤكسد ومختزل (ب) مؤكسد (ج) مختزل (د) مساعد

١٠- أحد الآتية يمثل نصف تفاعل اختزال:

(أ)  $\text{PbO}_2 \longrightarrow \text{Pb}^{2+}$

(ب)  $\text{Al} \longrightarrow \text{AlO}_2^-$

(ج)  $\text{H}_2\text{SO}_3 \longrightarrow \text{SO}_4^{2-}$

(د)  $\text{Cr}_2\text{O}_3 \longrightarrow \text{CrO}_4^{2-}$

يتبع الصفحة الثانية ....

الصفحة الثانية

١١- أحد التفاعلات الآتية، يمثل تفاعل تأكسد واختزال ذاتي:



١٢- في المعادلة  $Cd + Sn^{2+} \longrightarrow Sn + Cd^{2+}$  فإن العبارة الصحيحة هي:

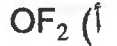

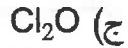

(ب)  $Sn^{2+}$  عامل مختزل

(أ) Sn عامل مؤكسد

(د) Cd عامل مختزل

(ج)  $Cd^{2+}$  عامل مختزل

١٣- عدد تأكسد ذرة الأكسجين O يساوي (-١) في:



١٤- المادة التي تكتسب الإلكترونات أثناء التفاعل:

(ب) يزداد عدد تأكسدها

(أ) تسمى عاملاً مختزلاً

(د) يقل عدد تأكسدها

(ج) لا يتغير عدد تأكسدها

١٥- الذرة التي حدث لها تأكسد في التفاعل الآتي  $Cl^- + NO \longrightarrow ClO_3^- + N_2H_4$  ، هي:



١٦- مجموع أعداد التأكسد لجميع الذرات في المركب NaBr :

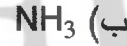
٣ (د)

٢ (ج)

١ (ب)

صفر (أ)

١٧- عدد تأكسد ذرة الهيدروجين H يساوي (-١) في:



١٨- العبارة الصحيحة في ما يتعلق بعملية التأكسد أثناء التفاعل، هي:

(ب) يحدث فيها زيادة في عدد التأكسد

(أ) يحدث فيها نقص في عدد التأكسد

(د) يحدث فيها اكتساب للإلكترونات

(ج) يقل فيها عدد الشحنات الموجبة

١٩- عدد تأكسد ذرة المنغنيز Mn في الأيون  $MnO_4^-$  يساوي:

١+ (د)

٧+ (ج)

٤+ (ب)

١- (أ)

٢٠- العبارة التي تدل على مفهوم عدد التأكسد:

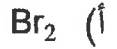
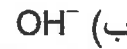
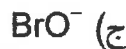
(ب) عملية اكتساب المادة للإلكترونات أثناء التفاعل

(أ) الشحنة الفعلية لأيون الذرة في المركب الأيوني

(د) المادة التي لا يتغير عدد تأكسدها أثناء التفاعل

(ج) عملية فقدان المادة للإلكترونات أثناء التفاعل

٢١- في التفاعل:  $2OH^- + Br_2 \longrightarrow BrO^- + Br^- + H_2O$  ، المادة التي يحدث لها تأكسد واختزال ذاتي، هي:



٢٢- في معادلة التفاعل  $O_2 + 2F_2 \longrightarrow 2OF_2$  العبارة الصحيحة هي:

(ب) ذرة O تتأكسد

(أ) ذرة F تتأكسد

(د)  $O_2$  عامل مؤكسد

(ج)  $F_2$  عامل مختزل

يتبع الصفحة الثالثة ....

الصفحة الثالثة

٢٣- أعداد تأكسد ذرات عناصر المجموعة الأولى (القلويات):

- (أ) ١- (ب) ١+ (ج) ٢- (د) ٢+

٢٤- أعلى عدد تأكسد لذرة الكبريت S يكون في:

- (أ)  $H_2SO_4$  (ب)  $HSO_3^-$  (ج) S (د)  $H_2S$

٢٥- العبارة الصحيحة في ما يتعلق بعملية الاختزال أثناء التفاعل، هي:

- (أ) يحدث فيها اكتساب للإلكترونات (ب) يحدث فيها زيادة في عدد التأكسد  
(ج) يزداد عدد الشحنات الموجبة (د) يحدث فيها فقد للإلكترونات

٢٦- إذا كانت رتبة التفاعل الكلية لتفاعل ما تساوي (٢) عند درجة حرارة معينة، فإن وحدة ثابت سرعة التفاعل k:

- (أ) مول/لتر.ث (ب) لتر<sup>٢</sup>/مول<sup>٢</sup>.ث (ج) ث<sup>-١</sup> (د) لتر/مول.ث

• اعتمادًا على التفاعل الافتراضي  $A \rightarrow B$  الذي يحدث عند درجة حرارة معينة، أجب عن الفقرتين (٢٧، ٢٨)

٢٧- تركيز المادة B (مول/لتر) في بداية التفاعل:

- (أ) ٠,٠٣ (ب) ٠,٠٢ (ج) ٠,٠١ (د) صفر

٢٨- يُعبّر ميل المماس لمنحنى تغيّر تركيز المادة A مع الزمن عن:

- (أ) السرعة اللحظية (ب) تركيز المواد المتفاعلة  
(ج) تركيز المواد الناتجة (د) ثابت سرعة التفاعل

٢٩- قيمة التغيّر في المحتوى الحراري  $\Delta H$  (كيلوجول) للتفاعل الافتراضي الآتي:  $2AB + 50kJ \rightarrow A_2 + B_2$

- (أ) ٥٠- (ب) ٥٠+ (ج) ١٠٠+ (د) ١٠٠-

٣٠- تدلّ العبارة "بناء غير مستقر له أعلى طاقة وضع أثناء سير التفاعل" على مفهوم:

- (أ) العامل المؤكسد (ب) العامل المختزل (ج) المعقد المنشط (د) العامل المساعد

٣١- في التفاعل الافتراضي  $2A + 2B \rightarrow 4D$  إذا كانت رتبة التفاعل للمادة  $A = (١)$ ، وثابت السرعة لهذا

التفاعل  $k = (٠,٠٥)$  لتر/مول.ث، عند درجة حرارة معينة، فإن رتبة التفاعل للمادة B تساوي:

- (أ) صفر (ب) ١ (ج) ٢ (د) ٣

٣٢- في التفاعل  $N_2 + 3H_2 \rightarrow 2NH_3$ ، إذا كان معدل سرعة استهلاك  $N_2$  يساوي (٠,٠٤) مول/لتر.ث، فإن

معدل سرعة استهلاك  $H_2$  بوحدة مول/لتر.ث يساوي:

- (أ) ٠,٠٢ (ب) ٠,٠٤ (ج) ٠,٠٨ (د) ٠,١٢

٣٣- في التفاعل الافتراضي  $3A + B \rightarrow 4C$ ، معدل سرعة استهلاك B (مول/لتر.ث) يساوي:

- (أ) ثلثي معدل سرعة استهلاك A (ب) ثلاث أضعاف معدل سرعة استهلاك A

- (ج) أربعة أضعاف معدل سرعة إنتاج C (د) ربع معدل سرعة إنتاج C

يتبع الصفحة الرابعة ....

### الصفحة الرابعة

٣٤- في تفاعل افتراضي ما، إذا كان قانون سرعة التفاعل  $k[A]^2$  عند درجة حرارة معينة، عند مضاعفة تركيز A مرتين، فإن سرعة التفاعل تتضاعف بمقدار:

- (أ) مرتين (ب) ٤ مرات (ج) ٦ مرات (د) ٨ مرات

٣٥- العبارة الصحيحة في ما يتعلق بالعامل المساعد، هي:

- (أ) يقلل من طاقة التنشيط للتفاعل  
(ب) يزيد من طاقة وضع المعقد المنشط  
(ج) يقلل المحتوى الحراري للتفاعل  
(د) يزيد من طاقة وضع النواتج

٣٦- تزداد سرعة التفاعل عند زيادة مساحة سطح المواد المتفاعلة في الحالة الصلبة المعرضة للتفاعل، بسبب:

- (أ) زيادة طاقة التنشيط  
(ب) زيادة عدد التصادمات الكلية  
(ج) نقصان عدد التصادمات الفعالة  
(د) نقصان تركيز المواد المتفاعلة

٣٧- في التفاعل الافتراضي  $A + B \longrightarrow 2D$ ، قانون سرعة التفاعل هو:  $k[A]^1[B]^x$  عند درجة حرارة معينة، والرتبة الكلية للتفاعل تساوي (٣)، فإن x تساوي:

- (أ) ٣ (ب) ٢ (ج) ١ (د) صفر

٣٨- يتفاعل (٢ غ) من الخارصين مع تراكيز مختلفة من محلول HCl، فإن سرعة التفاعل أعلى عندما يكون تركيز [HCl] مول/لتر يساوي:

- (أ) ٠,٠٠١ (ب) ٠,٠١ (ج) ٠,١ (د) ١

٣٩- في تفاعل افتراضي: نواتج  $A + B \longrightarrow$  عند درجة حرارة معينة، عند مضاعفة تركيز A (٣) مرات لم تتغير

سرعة التفاعل، وعند مضاعفة تركيز B مرتين تضاعفت سرعة التفاعل مرتين، فإن قانون سرعة هذا التفاعل هو:

- (أ)  $k[B]$  = س (ب)  $k[A]^3$  = س (ج)  $k[A]^1[B]^1$  = س (د)  $k[A]$  = س

٤٠- مقدار الفرق بين طاقة وضع المعقد المنشط وطاقة وضع المواد المتفاعلة يُعبّر عنه بـ:

- (أ) التغير في المحتوى الحراري  $\Delta H$   
(ب) طاقة التنشيط للتفاعل الأمامي

- (ج) طاقة التنشيط للتفاعل العكسي  
(د) طاقة وضع المعقد المنشط

٤١- العبارة الصحيحة في ما يتعلق بالتفاعلات الماصة للطاقة:

- (أ) طاقة وضع المواد الناتجة أقل من طاقة وضع المواد المتفاعلة

- (ب) قيمة التغير في المحتوى الحراري  $\Delta H$  سالبة

- (ج) طاقة وضع المواد الناتجة أكبر من طاقة وضع المواد المتفاعلة

- (د) طاقة وضع المواد الناتجة تساوي طاقة وضع المواد المتفاعلة

الصفحة الخامسة

٤٢- العبارة الصحيحة هي:

- (أ) وحدة قياس معدل سرعة التفاعل لتر/مول.ث  
 (ب) يقل تركيز المواد الناتجة بمرور الزمن  
 (ج) رتبة التفاعل تساوي عدد المولات في المعادلة الموزونة  
 (د) يقل تركيز المواد المتفاعلة بمرور الزمن  
 ٤٣- زيادة درجة حرارة التفاعل لا تؤثر في:

- (أ) عدد التصادمات الفعالة  
 (ب) سرعة التفاعل الكيميائي  
 (ج) طاقة التنشيط للتفاعل  
 (د) متوسط الطاقة الحركية للجزيئات

٤٤- العبارة الصحيحة هي:

- (أ) جميع التصادمات تؤدي لحدوث تفاعل  
 (ب) طاقة التنشيط هي الحد الأعلى من الطاقة التي تمتلكها المتفاعلات  
 (ج) المعقد المنشط بناء ثابت له أقل طاقة وضع  
 (د) إشارة  $\Delta H$  سالبة للتفاعلات الطاردة للطاقة  
 ٤٥- في تفاعل ما إذا كانت وحدة قياس ثابت سرعة التفاعل  $k$  هي  $\text{ث}^{-1}$ ، عند درجة حرارة معينة، فإن الرتبة الكلية للتفاعل تساوي:

- (أ) صفر (ب) ١ (ج) ٢ (د) ٣  
 • في تفاعل ما، كانت طاقة الوضع للمواد الناتجة (٨٠) كيلوجول، وطاقة وضع المواد المتفاعلة (٦٠) كيلوجول، وطاقة وضع المعقد المنشط بدون عامل مساعد (١٣٠) كيلوجول، وعند إضافة عامل مساعد كتلته (٢) غ انخفضت طاقة التنشيط بمقدار (١٠) كيلوجول. ادرس المعلومات السابقة، وأجب عن الفقرات (٤٦، ٤٧، ٤٨، ٤٩، ٥٠)  
 ٤٦- قيمة التغير في المحتوى الحراري  $\Delta H$  (كيلوجول) تساوي:

- (أ) ١٠٠+ (ب) ١٠٠- (ج) ٢٠+ (د) ٢٠-

٤٧- قيمة طاقة وضع المعقد المنشط بوجود عامل مساعد (كيلو جول) تساوي:

- (أ) ١٢٠ (ب) ١١٠ (ج) ٦٠ (د) ٤٠

٤٨- كتلة العامل المساعد (غ) في نهاية التفاعل تساوي:

- (أ) ٢ (ب) ٣ (ج) ٤ (د) ٦

٤٩- قيمة طاقة التنشيط للتفاعل الأمامي (كيلو جول) بدون عامل مساعد تساوي:

- (أ) ٣٠ (ب) ٧٠ (ج) ٨٠ (د) ١٢٠

٥٠- قيمة طاقة التنشيط للتفاعل العكسي (كيلو جول) بوجود عامل مساعد تساوي:

- (أ) ٨٠ (ب) ٥٠ (ج) ٤٠ (د) ٢٠

﴿ انتهت الأسئلة ﴾