



وزارة التربية والتعليم

مديرية التربية والتعليم لمنطقة لواء قصبة عمان/ مدرسة الشيماء الأساسية المختلطة

الاختبار الاول للفصل الدراسي الثاني للعام 2022/2021 م

المبحث: رياضيات مدة الاختبار: حصة

اسم الطالب: الصف: الرابع الشعبة: () التاريخ: / /

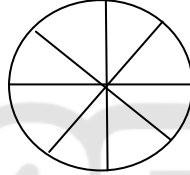
السؤال الأول: اكمل ما يأتي بما يناسبه

1) الكسر المكافئ للكسر $\frac{2}{3}$ هو

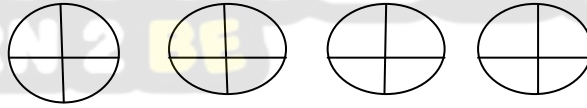
3

2) الكسر الذي يمثل الجزء المظلل

هو



3) العدد الكسري الذي يمثل الشكل



4) يكتب الكسر $\frac{5}{25}$ بأبسط صورة

25

5) يكتب العدد الكسري $\frac{3}{5}$ على صورة كسر غير فعلي

5

السؤال الثاني: جد ناتج ما يأتي

A) $\frac{2}{7} + \frac{1}{7} =$

B) $\frac{7}{8} - \frac{5}{8} =$

السؤال الثالث : اكتب الرقم المناسب في المربع

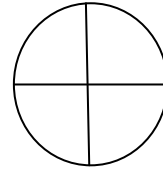
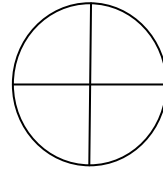
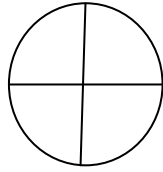
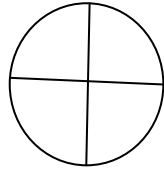
$$A) \frac{1}{5} = \frac{4}{\square}$$

$$B) \frac{\square}{\square} + \frac{5}{12} = \frac{10}{12}$$

$$C) \frac{1}{2} + \frac{\square}{\square} = 1$$

السؤال الرابع : مثل الكسر الغير فعلي على النموذج المجاور ثم اكتبه على صورة عدد كسري

$$\frac{14}{4} = \frac{\square}{\square}$$



السؤال الخامس : قرأت منى 5 كتاب في اليوم الأول و 2 كتاب في اليوم الثاني ما الكسر الذي يدل

12

12

على ما قرأته منى في اليومين ؟؟؟؟؟