



مديرية التربية والتعليم / السلط
مدرسة الأمل الثانوية المختلطة للصم

اختبار علوم الأرض للصف العاشر

اسم الطالب : الفصل الدراسي الثاني ١ الشهر الاول 2022\3\24

س1 : أكمل الفراغ بما يناسبه من العبارات الآتية : (5 علامات)

(الجبهات الهوائية الدافئة ، اختلاف قيم ، تحريك الهواء ، الكتلة الهوائية القطبية القارية ، خطوط تساوي الضغط)

1----- هي كتل هوائية باردة وجافة ، تتشكل فوق المناطق القطبية الباردة ، وتسبب تشكل الصقيع والانجماد .

2- احد انواع الجبهات الهوائية والتي يرمز لها على خانة الطقس الجوي بخط منحنى تبرز منه اقواس باللون الاحمر تسمى ----- .

3----- تتشكل أنظمة الضغط الجوي بسبب ----- الضغط الجوي من مكان إلى آخر ، مما يعمل على ----- .

4-يطلق على الخطوط الوهمية التي تصل بين القيم المتساوية للضغط الجوي اسم ----- .

س2:ضع إشارة (√) امام العبارة الصحيحة وإشارة (x) للعبارة الخاطئة في المكان المخصص له فيما يلي : (6 علامات)

1- () تتزايد قيم الضغط الجوي كلما ابتعدنا نحو الخارج وهذا ما يعرف بالمرتفع الجوي .

2- () يرمز للمنخفض الجوي على الخريطة السطحية للطقس بالرمز (L) باللون الاحمر .

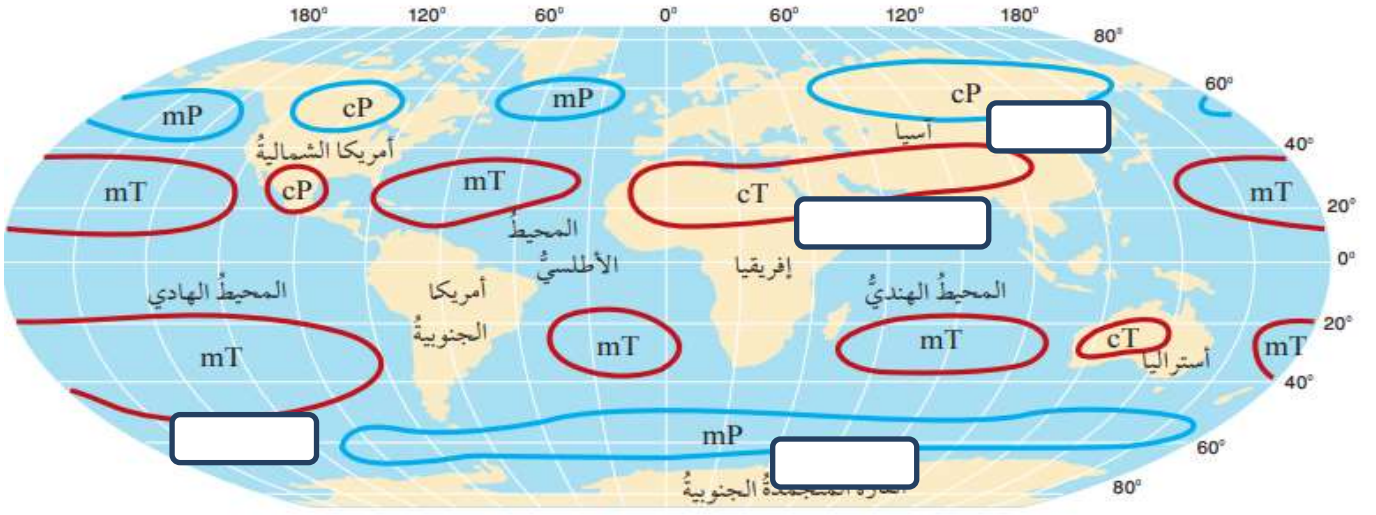
3- () تظهر المنخفضات والمرتفعات الجوية على خرائط الطقس بشكل متجاور لانها تكمل بعضها .

4- () من الخطأ ربط الارتفاع بدرجات الحرارة بالمرتفع الجوي .

5- () تسمى المنطقة الفاصلة بين كتلتين هوائيتين مختلفتين في خصائصهما عند التقائهما اسم الجبهة الهوائية .

6- () لا تتأثر درجات الحرارة بنظام الضغط الجوي السائد في المنطقة .

س3 : حدد ما تعنيه الرموز في الشكل المرفق : (4 علامات)



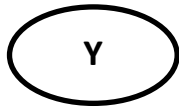

(5 علامات)

س4 : حدد من الشكل المرفق كل مما يأتي :

أ - الرمز (A , B) .

ب - الخطوط المشار لها بأسمهم .

ج - ما قيمة الضغط الجوي عند النقطة (Y) .



انتهت الاسئلة | مع اجمل الامنيات

ريما حيارى