

العلامة

25

وزارة التربية والتعليم

مديرية التربية والتعليم لواء الرمثا

مدرسة أسماء بنت عميس الأساسية المختلطة الأولى



اختبار نهاية الفصل الدراسي الثاني لمادة الرياضيات 2021 – 2022

الزمن : ساعة واحدة

الصف والشعبة : الثالث الابتدائي

التاريخ : 2022_ _

الاسم :

السؤال الأول : أجد ناتج الضرب فيما يلي : (5 علامات)

21
× 5

43
× 9

92
× 2

6 × 42

5 × 29

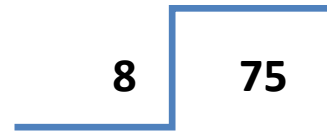
_____ × _____ = _____

_____ × _____ = _____

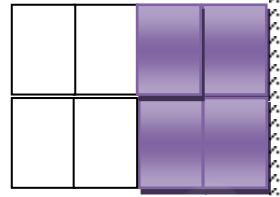
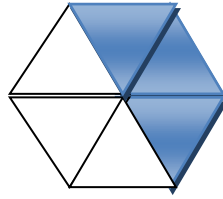

السؤال الثاني : جد ناتج القسمة : (4 علامات)

2	84
---	----

4	68
---	----

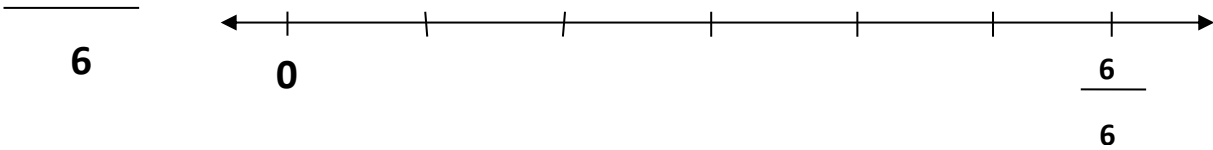


السؤال الثالث : اكتب الكسر الذي يمثل الجزء الملون : (3 علامات)

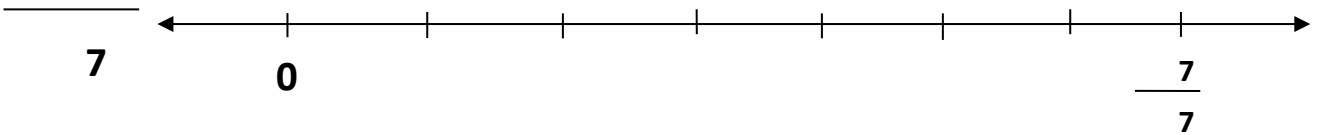


السؤال الرابع : أمثل الكسر على خط الأعداد : (2 علامات)




3



5



السؤال الخامس : اقرأ الوقت ثم اكتبه في الساعة الرقمية : (3 علامات)



السؤال السادس : اكتب العدد المفقود : (4 علامات)

$5 \text{ KM} = \text{----- M}$

$3 \text{ K g} = \text{----- g}$

$9 \text{ L} = \text{----- ML}$

$2 \text{ M} = \text{----- CM}$

السؤال السابع : (4 علامات)

أكمِلْ جَدْوَلَ الإِشَارَاتِ، ثُمَّ اسْتَعْمِلْهُ لِتَمْثِيلِ الْبَيَانَاتِ بِالْأَعْمِدَةِ:

التكرار	الإشارات	القطور المفضل
		البيض
		الزعر
		اللبنة
		الجبن

