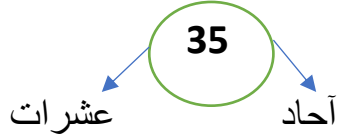


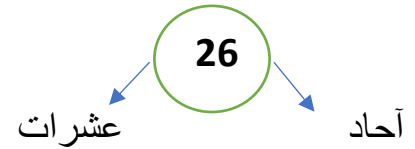
							الزمن : حصة صفية
الفصل الدراسي الأول 2021/2022 التاريخ : 11 / 2021			الرياضيات الصف الأول الأساسي		تقييم الشهر الثاني الإسم :		
أجب عن جميع الأسئلة عددها 6 علماً بأن عدد الصفحات 3							
المجموع	السادس	الخامس	الرابع	الثالث	الثاني	الأول	رقم السؤال
25	5	4	4	4	4	3	علامة السؤال
							علامة الطالب

السؤال الأول :- أكمل كتابة الأعداد

38			41				45	
----	--	--	----	--	--	--	----	--

السؤال الثاني : أمثل العدد بـ ثم أكتب الأحاد و العشرات





السؤال الثالث: أستمع الى معلمي اقرأ الأعداد الآتية المكتوبة بالكلمات ثم أكتبها بالأرقام .

واحد و عشرون

ثلاثة و خمسون

أربعة عشر

تسعة و سبعون

السؤال الرابع : أضع دائرة حول رمز الإجابة الصحيحة

1- أحوط القيمة المنزلية لرقم العشرات في العدد 65

50

60

6

2- أحوط عدد الأحاد في العدد 78

80

70

8

3- أكتب العدد 29 بالصورة التحليلية

$8+60$

$20+9$

$50+6$

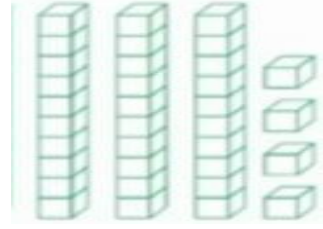
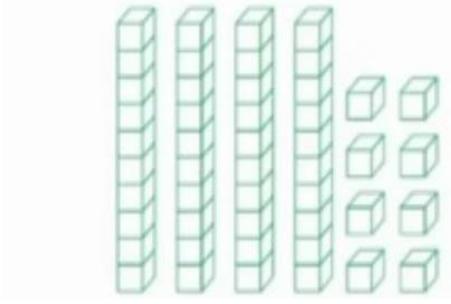
4- كم عشرة في العدد 41

40

4

4 عشرات

السؤال الخامس : أكتب العدد الممثل ضمن مزلتين بالرسم



السؤال السادس : الأعداد الفردية باللون الأحمر و الأعداد الزوجية باللون الأزرق

