

# دوسية شرح وتلخيص الدراسات الاجتماعية للفصل الخامس الفصل الثاني

## سؤال وجواب

المنهاج الاردني

اعداد

أميرة عيال سلمان السعودي

تشمل اجابات دروس المراجعة والوحدة باستثناء الاسئلة الموجه  
للطالب مثل اسئلة أفكار وأناقش واسئلة التفكير الناقد والابداعي .

## الخامس الفصل الثاني



موقع الايمان التعليمي

1. **تولى الشريف الحسين بن علي إمارة..... عام 1908 ؟ مكة المكرمة**
2. **ابين اسباب الثورة العربية الكبرى ؟** كانت البلاد العربية في آسيا تحت الحكم العثماني الذي مارس الظلم في أواخر عهده ، وحارب استخدام اللغة العربية ، وفرض ضرائب إضافية ، والتجنيد العسكري الاجباري ، اهمل التعليم والصحة ؛ لذلك انشر الجهل والفقر والأمراض في البلاد العربية .
3. **بسبب تردي الأوضاع بحث العرب عن قائد لهم ليخلصهم من الظلم ، فتوجهت الانظار الى ؟** الشريف الحسين بن علي
4. **ما سبب اختيار العرب الشريف الحسين بن علي قائدا للثورة العربية الكبرى ؟** لمكانته الدينية والسياسية / فطلب أحرار العرب إليه ان يقود حركتهم من أجل الحرية والاستقلال .
5. **اعلن قيام الثورة العربية الكبرى من مكة المكرمة في ؟** العاشر من حزيران عام 1916م .
6. **نظم الشريف الحسين بن علي قوات الثورة العربية الكبرى من ؟** أحرار العرب
7. **ابناء الشريف الحسين الذين قادوا الثورة العربية الكبرى ، هم الامراء ؟** علي ، وعبد الله ، و فيصل ، وزيد
8. **انطلقت جيوش الثورة العربية الكبرى من ؟** ( مكة المكرمة ) الى ( بلاد الشام ) وانضم إليها أحرار العرب في تلك المناطق .
9. **أهداف الثورة العربية الكبرى ؟** تحرير البلاد العربية ووحدتها ، وتحسين أوضاع العرب الصحية والتعليمية والاقتصادية
10. **الراية التي حملتها قوات الثورة العربية الكبرى ؟** راية الثورة العربية الكبرى .
11. **دلالات الوان علم الثورة العربية الكبرى ؟**

<p><b>اللون الاسود:</b> راية العقاب ، وهي راية الرسول محمد صلى الله عليه السلام ، وقد اتخذه العباسيون شعارا لهم</p>		<p><b>اللون الأبيض:</b> شعار الدولة الاموية</p>
<p><b>اللون الاخضر:</b> الشعار الذي اشتهر به آل البيت عليهم السلام ، وقد اتخذه الفاطميون شعارا لهم .</p>		<p><b>اللون الأحمر:</b> شعار الأسرة الهاشمية</p>

12. **نتائج الثورة العربي الكبرى ؟**

<p>1 إنهاء الحُكم العثماني للبلاد العربية.</p>	<p>2 تأسيس ممالك عربية في الحجاز وسوريا والعراق.</p>	<p>3 تأسيس إمارة شرق الأردن.</p>
--	--	----------------------------------

13. **بعد التخلص من الحكم العثماني أخلفت..... وعودها مع الشريف الحسين بن علي \_ بقيام دولة عربية مستقلة وموحدة في آسيا العربية ؟** بريطانية
14. **اتفقت بريطانيا مع فرنسا سرا على تقسيم البلاد العربية بموجب اتفاقية سرية عرفت باسم ؟** ( سايكس \_ بيكو ) 1916م .
15. **كيف قسمت البلاد العربية بموجب اتفاقية ( سايكس بيكو ) .** وضعت الاردن وفلسطين والعراق تحت الانتداب (البريطاني) وضعت سوريا ولبنان تحت الانتداب (الفرنسي)
16. **الانتداب ؟** شكل من أشكال الاستعمار ، اذ تفرض دولة قوية سيطرتها على دولة ضعيفة .
17. **كان قد نودي بالشريف الحسين بن علي ملكا على العرب عام 1916م .** واقتصر حكمه على الحجاز حتى عام 1924م . وتوفي الشريف الحسين بن علي في عمان عام 1931م ، وكان قد أوصى ان يدفن في باحات المسجد الاقصى . فكان له ما أراد .

## تأسيس أمانة شرق الأردن

1. وصل الأمير عبد الله بن الحسين عام 1920م الى ؟ معان
2. ما الهدف من قدوم الأمير عبد الله بن الحسين الى شرق الأردن ؟ كان في طريقه الى دمشق لمقاومة الاحتلال الفرنسي لسورية الشمالية وفي أثناء وجوده في معان التحق به العديد من رجال الحركة العربية ؛ من أجل هذه الغاية .
3. بسبب تطورات الاوضاع في المنطقة العربية عزم الامير عبد الله على التفاوض مع .....؟ بريطانيا
4. نجح الأمير عبد الله بتأسيس امانة شرق الأردن في ؟ 11 نيسان 1921م
5. الاتفاقية التي وقعها الاردن مع بريطانيا عام 1928م وحصل بموجبها على اعتراف رسمي بتأسيس إمارة شرق الأردن ، هي ؟ الاتفاقية الاردنية البريطانية
6. القانون الذي صدر في عام 1928م ونظم الحياة التشريعية والإدارية في الإمارة ؟ القانون الاساسي ( الدستور )
7. انطلقت الاحتجاجات والمسيرات الشعبية في الاردن ؟ للمطالبة بنيل الاستقلال التام الاستقلال

1. اعترفت بريطانيا باستقلال امانة شرق الأردن واعلانها دولة مستقلة بتاريخ ؟ 25 ايار 1946م باسم ( المملكة الاردنية الهاشمية )
2. اصدر الدستور الاردني عام ؟ 1947م

3. أوضح اسباب قيام وحدة الضفتين ؟ جاءت في اعقاب الحرب العربية عام 1948م ، وحفاظا على ما تبقى من الأراضي الفلسطينية ( الضفة الغربية ) ، واستجابة لمطالب عدد من الزعامات الفلسطينية بالوحدة مع المملكة الاردنية الهاشمية ، اجريت انتخابات نيابية في الضفتين ، وقرر المجلس النيابي المنتخب إعلان وحدة الضفتين في نيسان عام 1950م

## اصدار الدستور الاردني

1. كيف استشهد الملك عبد الله الاول ؟ استشهد على باب المسجد الأقصى بينما كان يهيم بالدخول الى المسجد الأقصى لأداء صلاة الجمعة فيه في 20 تموز 1951م .
2. نودي به ملكا على البلاد بعد ان استشهد الملك عبدالله الاول ؟ ولي العهد ابنه الاكبر الأمير ( طلال بن عبد الله )
3. صدر ( الدستور الأردني ) عام 1952م في عهد ؟ الملك طلال بن عبد الله
4. نص الدستور الاردني عام 1952م على ان نظام الحكم ؟ ( نيابي ملكي وراثي )، وتضمن مجموعة من الحقوق والحريات ومبدأ فصل السلطات في البلاد ، وجعل التعليم الابتدائي إلزاميا ومجانيا .

## القوات المسلحة الأردنية \_ الجيش العربي

1. تشكلت نواة القوات المسلحة \_ الجيش العربي عام 1921م من ؟ رجال الثورة العربية الكبرى وبعد الاستقلال ازداد الاهتمام بالجيش وتسلحه وتدريبه ومضاعفة اعداده ، علما بأن قيادته تحت اشراف بريطانيا ومن ضباط بريطانيين .



الشكل (6): شعار القوات المسلحة الأردنية.

2. ما الذي حال دون استمرار الملك طلال في الحكم؟ **المرض** ، ما أدى الى المنادة بنجله الأكبر الأمير الحسين بن طلال ملكا على البلاد .

3. نودي بالأمير الحسين بن طلال ملكا دستوريا على البلاد في؟ **آب عام 1952م**  
تولى الامير الحسين بن طلال سلطاته الدستورية في؟ **أيار 1953م**

4. الملك الذي نجح بتعريب الجيش العربي الاردني في 1 آذار 1956م؟ **الملك الحسين بن طلال .**

5. كيف تم تعريب الجيش؟ بإنهاء خدمات الضباط الإنجليز وعلى رأسهم ( **كلوب** ) قائد الجيش العربي ، وتعيين أردنيين بدلا منهم؛ تحقيقا للسيادة الوطنية .

6. اهم التطورات التي شهدتها القوات المسلحة الاردنية \_ الجيش العربي؟ شهدت تطورا في مجال رفع كفاءة الجيش وتزويده بأنظمة الدفاع والتكنولوجيا الحديثة ، وأسس المركز الأردني للتصميم والتطوير عام 1999م .  
لتصنيع الاسلحة .

7. من الامثلة على الدور الانساني للقوات المسلحة الاردنية \_ الجيش العربي؟ شارك الاردن في قوات حفظ السلام الدولية في مواقع شتى من العالم ؛ لتقديم المساعدة الأمنية والإنسانية .

8. التتابع الزمني؟



### علاقات الاردن الخارجية

1. اسهم الاردن الى جانب العراق وسورية ولبنان ومصر والمملكة العربية السعودية واليمن في تأسيس؟ **جامعة الدول العربية**

2. (جامعة الدول العربية) 1945 م؟ هي منظمة اقليمية تضم حاليا جميع الدول العربية الاثنتين والعشرين ، وتهدف الى تعزيز التعاون العربي في المجالات السياسية والاقتصادية والثقافية والاجتماعية .

3. في إطار المساهمة في تحقيق الأمن والسلم العالميين وحماية حقوق الانسان ، وتعزيز التعاون الدولي قبل الاردن عضوا في؟ ( **منظمة الامم المتحدة** ) عام 1955م



الشكل (9): شعار جامعة الدول العربية.



الشكل (10): شعار منظمة الأمم المتحدة.

4. بعد وفاة الملك الحسين ابن طلال ، نودي بنجله الأكبر ولي العهد الامير؟ ( **عبد الله الثاني بن الحسين** ) ملكا على البلاد باسم الملك عبد الله الثاني ابن الحسين ، وفي عهده تحققت كثير من الانجازات في مختلف الميادين



### في مجال التعليم

1. حقق الاردن انجازات مهمة في مجالات ؟ التعليم والصحة ، والمواصلات والاتصالات .
2. من اهم الانجازات في مجال التعليم منذ تأسيس الامارة ؟ توسع التعليم وازداد عدد المدارس ، وتنوعت المراحل الدراسية الأساسية والثانوية ، وجرى التركيز على إعداد المعلمين وتطوير كفاءاتهم .
3. ما ابرز تطورات ( التعليم ) في عهد الملك عبد الله الثاني ابن الحسين ؟  
بدأ مشروع حوسبة التعليم في المدارس ، وذلك بإنشاء مختبرات الحاسوب فيها ، وتنفيذ مبادرات تعليمية عديدة ، اهمها : ( التعليم المهني لرفد سوق العمل ) و ( التوسع في مرحلة تعليم رياض الاطفال )
- في مجال التعليم العالي الذي يهدف الى تعليم الكوادر البشرية المؤهلة والمتخصصة
4. أول جامعة انشئت في الأردن ، هي ؟ **الجامعة الأردنية** انشئت عام 1962م . ثم توالى افتتاح الجامعات الحكومية والخاصة وكليات المجتمع .
5. اسهمت ( القوات المسلحة الأردنية \_ الجيش العربي ) في مجال التعليم عن طريق ؟  
إنشاء مدارس الثقافة العسكرية في مختلف مناطق المملكة .  
الاهتمام بالتعليم الجامعي ، مثل : جامعة مؤتة بجناحيها : **العسكري والمدني** في محافظة **الكرك** وكلية الاميرة منى لرفد القوات المسلحة بالمرضات المؤهلات

### في مجال الصحة

6. اعدد انجازات القطاع ( الصحي ) في الاردن ؟ انشئت أول دائرة للصحة عام 1921م لتقديم الرعاية الصحية للمواطنين والمواطنات ، ثم تطور القطاع الصحي في الاردن بعد الاستقلال ، وذلك بإنشاء عدد من المستشفيات الحكومية والعسكرية ، مثل : **مدينة الحسين الطبية** ، والمراكز الصحية ، والمستشفيات في القطاع الخاص في أنحاء الأردن كافة ، وازداد عدد الاطباء / الطبيبات والصيدلة والممرضين / والممرضات ، وتوسعت مظلة التأمين الصحي ، وازداد دعم برامج رعاية ذوي الإعاقة .

### في مجالات المواصلات والاتصالات

7. من الانجازات في مجال ( المواصلات ) ؟ يمتلك الاردن شبكة من الخطوط البرية التي تصل بين المدن والبلدات الاردنية ، وطرقا دولية تصله بالدول المجاورة ، ومطارات لتسهيل نقل الركاب والبضائع ، مثل : **مطار الملكة علياء** . وهناك اهتمام في زيادة الجسور والانفاق في جميع انحاء الاردن ، ويعد مشروع **الباص السريع** أول نظام نقل سريع في مدينة عمان ، وهو آمن ومتطور ، ويجري التوسع فيه ليشمل محافظات أخرى .
8. من الانجازات في مجال ( الاتصالات ) ؟ تطور قطاع الاتصالات تطورا ملحوظا في السنوات الأخيرة ، ما أسهم في تعزيز الاقتصاد وتحسين نوعية الحياة ، كما استثمر الأردن بدرجة كبيرة في تطوير البنية التحتية للاتصالات وتكنولوجيا المعلومات ، ونفذت مشاريع لربط المدارس والمستشفيات والجهات الحكومية بشبكة وطنية رقمية

1. أوضح المقصود بالعرض والطلب؟ **العرض** : هو مقدار ما يتوافر من سلعة او خدمة ما .  
**الطلب** : هو مقدار ما يطلبه المستهلكون من تلك السلعة أو الخدمة .
2. ما الذي يحدد سعر السلعة التي نحتاج إليها أو نرغب في اقتنائها في مكان وزمان محددين؟ **الذي يحدد سعر السلعة هو كمية العرض من السلعة أو الخدمة ومقدار الطلب عليها .**
3. يتغير سعر السلعة إذا تغير؟ **العرض او الطلب**
4. مثال : يختلف الطلب على الحقائب المدرسية والقرطاسية في الاجازة الصيفية بالمقارنة مع **الطلب عليها عند اقتراب بداية العام الدراسي ، التي تشهد زيادة في الكميات المعروضة من الحقائب والقرطاسية .**

### قوانين العرض والطلب وعلاقتها بالأسعار

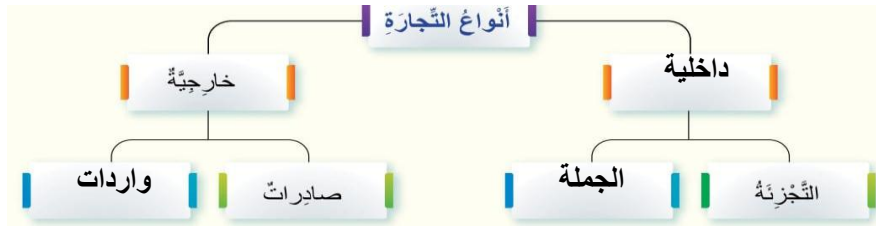
5. كيف يؤثر العرض والطلب في أسعار السلع؟  
أولاً : **زيادة الطلب على سلعة أو خدمة ما تؤدي الى ارتفاع الأسعار .**  
مثال : ارتفاع أسعار اللحوم والدواجن في شهر رمضان المبارك ؛ نتيجة زيادة الطلب عليهما .  
مثال : ارتفاع أسعار الشقق السكنية ؛ نتيجة النمو السكاني أو استقبال الدولة للمهاجرين أو اللاجئين .  
ثانياً : **زيادة العرض تؤدي الى انخفاض سعر السلعة .**  
مثال : زيادة كميات الخضروات في مواسمها ؛ تؤدي الى انخفاض أسعارها .  
مثال : زيادة الكميات المعروضة من الأجهزة الإلكترونية القديمة ، التي قل الطلب عليها نتيجة أجهزة حديثة ومتطورة أكثر ؛ تؤدي الى انخفاض اسعارها .
6. ابين العلاقة بين الأسعار وتوافر السلع والخدمات؟ **زيادة العرض من سلعة تؤدي الى انخفاض سعرها .**
7. **السبب والنتيجة** \_ **السبب : زيادة الطلب على سلعة** **النتيجة : يؤدي الى انخفاض سعرها**

8. ما العوامل المؤثرة في العرض والطلب؟  
(1) **توقيت الطلب على السلع والخدمات** : يزيد الطلب على شراء الملابس في موسم الاعياد ، كما يرتفع الطلب على اشغال الفنادق في موسم الصيف والعطلات .  
(2) **السعر** : يؤدي سعر السلعة أو الخدمة دورا اساسيا ؛ فكلما ارتفع سعر السلعة قل الطلب عليها الا اذا كانت سلعة اساسية .  
فارتفاع أسعار بعض الاجهزة الإلكترونية ؛ يقلل من الطلب عليها ، وانخفاض سعر السلعة يزيد الطلب عليها .  
(3) **مستوى دخل الافراد** : عندما يزيد مستوى الدخل ، يزداد الطلب على السلع والخدمات .  
(4) **أذواق المستهلكين** : يؤدي تعدد الأذواق وتغيرها الى التغير في الطلب .

9. كلما زادت الحاجة او الرغبة في منتج معين؟ **زاد الطلب عليه**

10. **السبب والنتيجة** \_ **السبب : عندما يزيد مستوى دخل الفرد** **النتيجة : زيادة الطلب على السلع والخدمات**

1. التجارة ، هي ؟ عملية يجري فيها بيع السلع والخدمات وشراؤها ؛ لتحقيق منفعة اقتصادية لكل من طرفي العملية : البائع والمشتري .



2. أنواع التجارة ؟

3. أعدد أنواع التجارة الرئيسية ؟ أولاً: التجارة الداخلية ثانياً : التجارة الخارجية

4. التجارة الداخلية ؟ هي عملية بيع السلع والخدمات داخل حدود الدولة وشراؤها .

5. تقسم التجارة الداخلية الى قسمين هما ؟

(1) تجارة الجملة : وهي بيع السلع والخدمات بكميات كبيرة الى تجار التجزئة ؛ لغايات بيعها الى المستهلكين  
 (2) تجارة التجزئة ( المفرق ) : حيث يبيع التاجر السلع والخدمات الى المستهلكين مباشرة.

6. التجارة الخارجية ؟ هي عملية بيع السلع والخدمات وشراؤها ، خارج حدود الدولة .

7. ينتج الاردن العديد من المنتجات ويصدرها الى الأسواق الخارجية ، ويطلق عليها ؟ الصادرات

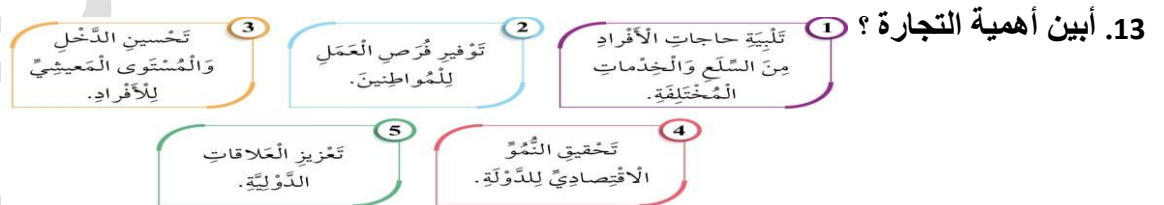
8. من الأمثلة على صادرات الاردن ؟ الأدوية ، والخضار ، والفاكهة ، والأسمدة ، والمنسوجات .

9. شراء السلع والخدمات من دول اخرى لسد حاجات الأسواق المحلية ، يطلق عليها ؟ الواردات

10. من الامثلة على واردات الاردن ؟ المعدات الثقيلة والسيارات والأدوات الكهربائية والإلكترونية والنفط والحبوب

11. التجارة الإلكترونية ؟ نمط جديد من التجارة مرتبط بالتطور التكنولوجي والرقمي في العالم .

12. نمط التجارة الذي يجري فيه الشراء عبر الانترنت عن طريق التطبيقات الرقمية المختلفة ؟ التجارة الإلكترونية



14. تشارك المرأة في الاردن بدور فاعل في الانشطة الاقتصادية ومنها النشاط.....مثل إنشاء المشاريع المختلفة ؟ التجاري

15. العوامل المؤثرة في التجارة ؟



1. **الخدمات** ؟ النشاط الاقتصادي الذي تقدمه الدولة ( القطاع العام ) أو القطاع الخاص والمجتمع ؛ لتلبية منافع الناس وحاجاتهم .
2. **قطاع الخدمات** ؟ قطاع مهم في اقتصاد الدولة ، ينتج عنه منفعة غير ملموسة تلبي حاجات الناس .
3. **من الامثلة على الخدمات ؟**



4. **ما اهمية قطاع الخدمات ؟** يعد قطاع الخدمات من القطاعات الرئيسية للأسباب الآتية .



5. **السبب والنتيجة\_ السبب** : ..... : **النتيجة** : تشغيل ايد عاملة كثيرة .

### أولا : الخدمات التعليمية

1. **الخدمات التعليمية** : يعد التعليم أحد الركائز الأساسية لتطور المجتمعات والافراد وتقدمهم . ويضم كلا من رياض الاطفال ، والمدارس ومراكز التدريب المهني ، والكليات والجامعات .
2. **تقدم خدمات التعليم للمواطنين عن طريق ؟** القطاع العام الحكومي ، والقوات المسلحة ، والقطاع الخاص .

3. **السبب والنتيجة : السبب** : تطور قطاع التعليم ..... : **النتيجة** :

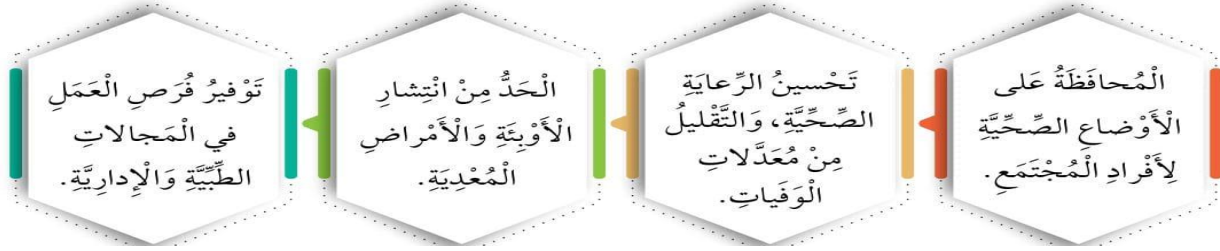
4. **منصة ( Jo Learn ) ؟** اطلقت منصة التعليم الإلكتروني الأردنية ؛ بهدف توفير المواد والأدوات التعليمية والإلكترونية اللازمة للمعلم والطلبة ، بما يساعد على توفير المنصة خدمات الدخول الى الصفوف الافتراضية ، كما تحتوي على الواجبات البيتية والامتحانات الإلكترونية ، وعلى منصة ( درسك ) التي تعرض الدروس مجانا لكل المواد الدراسية .

### ثانيا : الخدمات الصحية

1. **الخدمات الصحية** : يعد قطاع الرعاية الصحية في الاردن قطاعا متميزا ؛ نظرا الى ما فيه من كوادر طبية مؤهلة وذات كفاءة عالية ، ومنشآت طبية متقدمة مواكبة للتطور التكنولوجي والعلمي .
2. **تقدم الخدمات الصحية في الاردن عن طريق ؟** القطاع العام ( الحكومي ) ، والقوات المسلحة ، والجامعات . والقطاع الخاص .
3. **يضم قطاع الخدمات الصحية ؟** المراكز الصحية ، والمستشفيات ، والمستشفيات الجامعية الحكومية والخاصة ، ومراكز الطوارئ ، ومراكز الامومة والطفولة ، والعيادات والصيدليات .



4. من الآثار الايجابية التي يحققها قطاع الخدمات الصحية على الفرد والمجتمع؟ أو-الخدمات التي تقدمها وزارة الصحة



ثالثا : قطاع خدمات النقل والاتصالات

1. تعد خدمات النقل من الخدمات المهمة المقدمة للأفراد .

2. أنواع النقل؟ النقل البري والنقل البحري والنقل الجوي

3. فوائد قطاع النقل؟



4. البوابة الجوية الرئيسية للأردن على العالم ، يقع جنوب العاصمة عمان ، وجرى افتتاحه في عام 1983م؟  
مطار الملكة علياء الدولي

5. مجال الاتصالات : تتوافر خدمات الاتصال والإنترنت على نطاق واسع ، ما النتائج المترتبة على توافرها ؟

تسهيل التواصل بين الناس ، وزيادة النشاط الاقتصادي ، وتعزيز المعرفة والبحث العلمي ، وتسهيل إجراء المعاملات المختلفة .

6. تعمل ..... على تنظيم أداء قطاع الاتصالات ، ومتابعة الخدمات التي يقدمها؟  
هيئة تنظيم قطاع الاتصالات

رابعا : الخدمات المصرفية والمالية

1. تقدم الخدمات المالية والمصرفية للأفراد عن طريق؟ البنوك ومحلات الصرافة عبر التعامل المباشر أو الإلكتروني

2. أبين أهمية الخدمات المصرفية ؟ يساهم في تسهيل المعاملات المالية للأفراد ؛ كالتحويلات المالية ، والدفع المالي المباشر أو غير المباشر باستخدام المحافظ المالية الإلكترونية .

3. هو الجهة المسؤولة عن إصدار النقد (العملة الأردنية) ، والرقابة والإشراف على البنوك والمؤسسات المصرفية؟  
البنك المركزي

خامسا : الخدمات السياحية

1. يشمل قطاع الخدمات السياحة على؟ الفنادق ، والمطاعم ، والمقاهي والمنتزهات ، ووسائل النقل . ويؤدي هذا القطاع دورا حيويا في تعزيز الاقتصاد .

2. أبين أهمية الخدمات السياحية ؟



3. شاركت المرأة الأردنية في قطاع الخدمات بأشكاله المختلفة بأدوار متنوعة وفاعلة ؛ كالعامل في قطاعي التعليم والصحة ، بالإضافة الى المشاركة في الخدمات السياحية المختلفة ، وفي خدمات النقل والاتصالات .

1. المكان ؟ هو الحيز الذي يوجد فيه الانسان على سطح الأرض ، ويتضمن وصفا للموقع والظروف البيئية والخصائص الطبيعية والبشرية له .

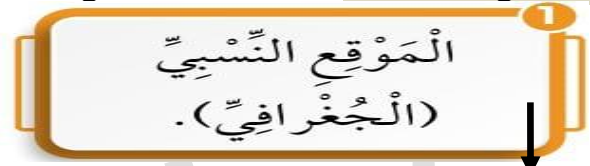
مثال : انشئت مدينة جرش قديما في مكانها هذا ؛ لأنه غني بالموارد الطبيعية كالتربة الخصبة ووفرة المياه . كما تحيط به تلال وجبال توفر حماية طبيعية ضد الغزوات الخارجية ، ما جعله مكانا آمنا للاستقرار البشري .

2. يساعد على تحديد الأماكن والمعالم المهمة التي نحتاج إليها ؟ الموقع

3. يحدد الموقع عن طريق ؟ أو طرق تحديد الموقع ؟ .



هو تحديد نقطة على سطح الكرة الأرضية باستخدام احداثيات خطوط الطول ودوائر العرض .



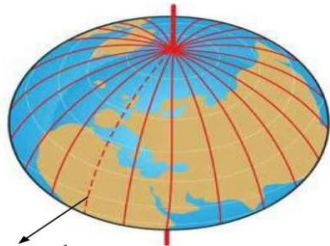
هو تحديد منطقة ما على سطح الارض بالنسبة الى ما يجاورها من مناطق أخرى .



ويمكن تحديده على الخريطة عن طريق الجهة التي يقع فيها مثال أصف الموقع الجغرافي النسبي للأردن : تقع المملكة الاردنية الهاشمية في الجهة الجنوبية الغربية من قارة آسيا ، ويحدها من الشمال سورية ومن الجنوب السعودية ومن الشرق العراق والسعودية ومن الغرب فلسطين .

4. أولا : خطوط الطول ؟

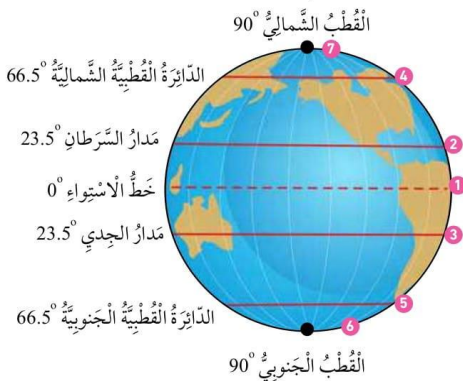
- \* مفهومها : هي انصاف دوائر وهمية متساوية الطول تمتد من القطب الشمالي الى القطب الجنوبي
- \* الشكل : انصاف دوائر وهمية متساوية الطول .
- \* عددها : ( 360 ) خطا
- \* الخط الرئيس : خط ( غرينتش ) الذي يمر بضاحية غرينتش غرب مدينة لندن ومنها أخذ الاسم .
- \* درجة خط غرينتش : صفر
- \* توزيعها بين الشرق والغرب : ( 180 ) خطا الى الشرق من خط ( غرينتش ) ( 180 ) خطا الى الغرب من خط ( غرينتش )



خط ( غرينتش )


5. ثانيا : دوائر العرض ؟

- \* مفهومها : هي دوائر وهمية تحيط بالكرة الأرضية من الشرق الى الغرب وغير متساوية الطول .
- \* شكلها : دوائر وهمية غير متساوية الطول .
- \* عددها : ( 180 ) دائرة .
- \* الخط الرئيس : خط ( الاستواء ) وهو الدائرة الرئيسية التي تقسم الكرة الأرضية الى قسمين . ودرجته صفر .
- \* توزيعها : تنتهي الدوائر بدائرة ( 90 ) عند القطب الشمالي و ( 90 ) عند القطب الجنوبي .
- \* عدد دوائر العرض الرئيسية : سبعة



6. ما أهمية خطوط الطول ودوائر العرض؟

- 1) تساعد خطوط الطول على حساب اختلاف التوقيت الزمني بين الدول .
- 2) تساعد دوائر العرض على معرفة المناطق الحرارية على سطح الارض ؛ فتمتاز المناطق المجاورة لخط الاستواء بارتفاع درجة الحرارة ، وكلما ابتعدنا شمالا وجنوبا تنخفض درجة الحرارة .
- 3) تساعد خطوط الطول ودوائر العرض على تحديد المواقع على سطح الكرة الأرضية .

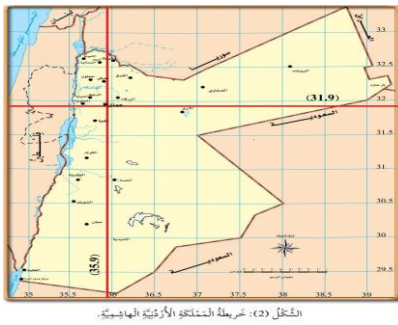


7. ما الهدف من استخدام خطوط الطول ودوائر العرض؟ تحديد المواقع على سطح الكرة الأرضية

8. ما أوجه الشبه والاختلاف بين خطوط الطول ودوائر العرض؟

9. كيف نحدد الموقع الفلكي؟ لتحديد الموقع الفلكي لنقطة معينة على سطح الكرة الأرضية؛ فإننا نحتاج الى معرفة خط الطول مع دائرة العرض .

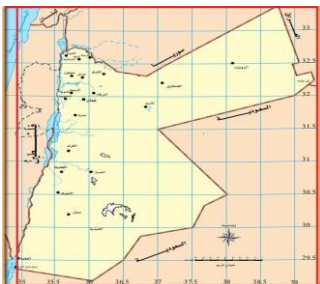
مثال : الموقع الفلكي لمدينة عمان هو تقاطع خط طول ( 35.9 ) درجة شرق خط ( غرينتش ) مع دائرة عرض ( 31.9 ) درجة شمال خط الاستواء .



الخريطة (2) : خريطة المنطقة الأردنية الهاشمية.

10. ما خطوات تحديد الموقع الفلكي لمنطقة جغرافية واسعة؟

- 1) نحدد أقصى امتداد جغرافي للمنطقة من **الجهة الشرقية** على خطوط الطول .  
مثال : يصل أقصى امتداد للأردن الى درجة ( 39 ) تقريبا الى الشرق من خط ( غرينتش )
  - 2) نحدد أقصى امتداد جغرافي للمنطقة من **الجهة الغربية** .  
مثال : يصل أقصى امتداد للأردن الى درجة ( 35 ) تقريبا الى الشرق من خط ( غرينتش )
  - 3) نحدد أقصى امتداد جغرافي للمنطقة من **الجهة الشمالية** لدوائر العرض .  
مثال : يصل امتداد الاردن الى درجة ( 33 ) تقريبا شمال خط الاستواء .
  - 4) نحدد أقصى امتداد جغرافي للمنطقة من **الجهة الجنوبية** لدوائر العرض .  
مثال : يصل امتداد الأردن الى درجة ( 29 ) تقريبا شمال خط الاستواء .
- وبذلك ، يكون الموقع الفلكي للأردن كما يأتي : بين درجتي خطي طول ( 35 \_ 39 ) شرق خط ( غرينتش ) ، وبين درجتي دائرتي عرض ( 29 \_ 33 ) شمال خط الاستواء .





1. ما الذي أدى الى انتشار ( نظام تحديد الموقع العالمي GPS )؟ التطور التكنولوجي واتساع خدمات شبكة الإنترنت

2. ما المقصود بـ ( نظام تحديد الموقع العالمي GPS ) ؟ هو نظام نستطيع عن طريقه تحديد الموقع الفلكي على سطح الكرة الأرضية عبر اتصاله مباشرة بالأقمار الصناعية ، واعتماده على الاحداثيات الجغرافية ؛ ( خطوط الطول ودوائر العرض ) للموقع .



### كيفية عمل نظام تحديد الموقع العالمي

3. أبين كيفية عمل نظام تحديد الموقع العالمي ؟ تدور الاقمار الصناعية حول الأرض في مدارات محددة . وفي اثناء دورتها ، تصدر إشارات الى أجهزة الاستقبال على الأرض ، ثم يستقبل جهاز الاستقبال في نظام تحديد الموقع العالمي هذه الاشارات ، ويحدد الموقع الفلكي المطلوب بدقة .

4. من التطبيقات الجغرافية التي تعتمد على نظام (GPS) لاستخدام الخرائط ؟ تطبيق ( خرائط جوجل ) ( Google Maps ) المتوافر على الهواتف الذكية ؛ إذ يزودنا بمعلومات وافية عن المواقع التي يمكن زيارتها وحالة الطرق التي نسلكها .



5. أتتبع الخطوات الآتية لاستخدام تطبيق ( خرائط جوجل ) ( Google Maps ) ؟

- (1) أتصل بشبكة الإنترنت .
- (2) أفتح تطبيق ( خرائط جوجل ) ( Google Maps ) على الهاتف الذكي .
- (3) أحدد الموقع المراد الذهاب إليه . مثل الذهاب الى متحف الأطفال في حدائق الحسين في عمان .
- (4) أحدد نقطة الانطلاق ( موقعي )
- (5) أنقر على أيقونة البدء ، واتبع المسار المحدد للوصول متحف الأطفال في عمان .



نُقطة الانطلاق

نُقطة الوصول

اتباع المسار المُحدّد باللون الأزرق، كما يظهر في الصورة.

ضغَطْ على أيقونة البدء؛  
لِذهابِ إلى المسار المُحدّد.

1. يقع الوطن العربي على امتداد قارتي آسيا و إفريقيا
2. تقع الدول العربية في القارة الافريقية في ( وادي النيل ) و ( القرن الإفريقي ) و ( المغرب العربي ) .

### اولا : دولتا وادي النيل



الشكل (6): خريطة مصر والسودان.

1. يشمل وادي النيل دولتي ( مصر و السودان ) .
2. النهر الذي يمر في دولتي (مصر و السودان) ، هو ؟ **نهر النيل**
3. النهر الأطول في العالم ، هو ؟ **نهر النيل** .
4. ينبع نهر النيل من .....؟ ( هضبة البحيرات الإفريقية الكبرى ) .  
ويصب نهر النيل في .....؟ ( البحر المتوسط )
5. القناة التي تربط بين البحرين المتوسط والأحمر ؟ **قناة السويس**
6. ما المسطح المائي الذي يحد مصر والسودان من الشرق ؟ .....

7. القناة ، هي ؟ **ممر صناعي حفره الانسان للربط بين مسطحات مائية مختلفة ، مثل قناة السويس التي تربط بين البحر المتوسط والأحمر**

### ثانيا : القرن الإفريقي وجزر القمر

1. اين يقع القرن الإفريقي وجزر القمر ؟ في الجزء الشرقي من قارة إفريقيا ، ويشرف على المحيط الهندي والبحر الأحمر .
2. يتكون القرن الإفريقي من دولتي ؟ ( الصومال و جيبوتي )
3. المضيق ، هو ؟ **ممر مائي طبيعي ضيق ، يصل بين مسطحين مائيين .**
5. مضيق يصل بين البحر الاحمر والمحيط الهندي ؟ **مضيق باب المندب**
6. ما اسم الدولة التي تشرف على مضيق باب المندب ؟ **جيبوتي**



الشكل (7): خريطة القرن الإفريقي وجزر القمر.

- أسئلة على الخريطة :
- « أحدد موقع دول الصومال على الخريطة المجاورة .....
- « أصف موقع دولة جزر القمر بالنسبة الى الصومال .....
- « ما اسم الدولة التي تشرف على مضيق باب المندب .....
- « ما المسطحات المائية التي يصل بينها مضيق باب المندب .....



اسم الدولة العربية	عاصمتها	ميزتها	الحضارات	المعالم
1 مصر	القاهرة	ميزتها : أكثر الدول العربية سكانا . تشتهر بـ : إنتاج قصب السكر والأرز والقطن .	(الحضارة المصرية القديمة) ، أقدم الحضارات البشرية	مدينة القاهرة أهرامات الجيزة
2 السودان	الخرطوم	- تربتها الخصبة الصالحة للزراعة ، وتمتلك ثروة حيوانية ضخمة جدا	- مملكة (كوش) - مملكة (مروي)	مدينة الخرطوم أهرامات نوري
3 جيبوتي	جيبوتي	- من أصغر الدول العربية مساحة . - تمتلك ثروة سمكية وفيرة ، وتتمتع بموقع استراتيجي على مضيق باب المندب . - ما يجعلها مركزا مهما للتجارة والنقل البحري .	////	مدينة جيبوتي
4 الصومال	مقديشو	- تعتمد في اقتصادها على الثروة الحيوانية ، وتمتلك موارد طبيعية غير مستغلة منها الثروات المعدنية كالحديد . - هي الدولة العربية الوحيدة التي يمر بها خط <b>الاستواء</b>	//////////	مدينة مقديشو
5 جزر القمر	موروني	دولة عربية تقع في المحيط الهندي في القرب من الساحل الشرقي لإفريقيا .  - آخر الدول العربية التي استقلت عن الاستعمار الفرنسي .	//////////	مدينة موروني

1. تقع دول المغرب العربي في ؟ الجزء الشمالي الغربي من قارة إفريقيا . تشرف على البحر المتوسط شمالا وعلى المحيط الأطلسي غربا .

2. ( دول المغرب العربي ) خمس دول ، هي ؟ ليبيا ، تونس ، الجزائر ، والمغرب ، وموريتانيا



التفصيل (8) : دول المغرب العربي.

3. - ما المسطحات المائية التي تحد دول المغرب العربي من الشمال والغرب ....  
- ما اسم المضيق الذي يربط بين البحر المتوسط والمحيط الاطلسي .....

اسم الدولة العربية	العاصمة	ميزتها	الحضارات التي قامت على ارضها ؟	أهم المعالم
1 ليبيا	طرابلس	- تشتهر بإنتاج النفط والغاز .	الفينيقية واليونانية والرومانية	مدينة طرابلس
2 تونس	تونس	- تعتمد في اقتصادها على الزراعة والسياحة والصناعات التحويلية .	الحضارة الفينيقية وحضارة قرطاج	أنار قرطاج
3 الجزائر	الجزائر	- هي أكبر الدول العربية مساحة وتشتهر بإنتاج النفط والغاز . - هي الدولة العربية التي يمر بها خط ( غرينتش )	الحضارة الرومانية وحضارة قرطاج .	مدينة الجزائر
4 موريتانيا	نواكشوط	- تتوافر فيها الموارد الطبيعية ، وتشتهر بإنتاج الفوسفات ومعدن الحديد	///////	مدينة نواكشوط
4 المملكة المغربية	الرباط	- تشتهر بإنتاج الأسماك والفوسفات . ؟؟؟ من أهم مدنها ؟ ( فاس ) و ( الدار البيضاء ) ( مراكش )	- الحضارة الرومانية	مدينة الرباط

1. الثقافة ، هي ؟ مجموعة القيم والعادات والتقاليد والمعتقدات والأعراف والأدوات ، التي تعبر عن هوية الفرد والمجتمع .

### العناصر الرئيسية المكونة للثقافة

2. ما عناصر الثقافة الرئيسية ؟

1 اللغة : عنصر أساسي من ثقافة أي مجتمع ، وتشمل الإنتاج الأدبي من شعر ونثر، وهي أداة مهمة لحفظ التراث

سؤال : اللغة الرسمية في مجتمعنا الاردني هي : اللغة العربية

سؤال : بماذا تتميز اللغة العربية ؟ بتنوع خطوطها التي تكتب بطريقة جميلة وزخرفية . ويعنى

النظام التعليمي الاردني بتعليم اللغات الاجنبية الأخرى .

سؤال : أهم وسائل التواصل والتفاهم بين أفراد المجتمع ؟ اللغة

2 الدين : مجموعة المعتقدات والتشريعات والقواعد الأخلاقية التي تنظم علاقة الانسان بالخالق عز وجل والكون والإنسان .

سؤال : الدين الرسمي في الأردن بموجب الدستور ، هو ؟ الاسلام

سؤال : تدين فئة من المجتمع الأردني بـ ؟ المسيحية .

3 القيم : مجموعة المبادئ والمفاهيم التي يسترشد بها الأفراد في سلوكهم ، وتحدد معايير الصواب والخطأ وهي جزء من شخصية الفرد وتؤثر في تصرفاته وقراراته .

سؤال : أعدد أمثلة على القيم ؟ الصدق ، والعدل ، والتسامح ، والتعاطف ، والاحترام ، والرحمة ، والنزاهة ، والمساواة ، والكرم .

\*\*\* تؤثر الثقافة في السلوك الأخلاقي ، بتعزيز القيم الثقافية التي تختلف بين المجتمعات ، بسبب عوامل الدين والبيئة الاجتماعية .

\*\*\* تسود القيم في المجتمع الاردني ، وتشكل اطارا لسلوك أفراده .

4 العادات والتقاليد : انماط سلوكية وطقوس اجتماعية تتوارثها الاجيال في أي مجتمع ، وتوفر شعورا بالهوية والانتماء .

سؤال : من الأمثلة على العادات والتقاليد ؟ الملابس والطعام والمسكن .

\*\*\* تختلف العادات والتقاليد من مجتمع إلى آخر ، وللاُردن عاداته وتقاليدته التي تميز أنماط سلوكه .

5 التاريخ : عنصر أساسي من هوية المجتمع ، ويشكل ذاكرة المجتمع والأفراد ، ويمكننا من معرفة تجارب الحضارات الأخرى .

سؤال : من الحضارات التي قامت على أرض الاردن ؟ الأدومية ، والعمونية ، والموابية ، والنبطية .

\*\*\* للأردن تاريخ عميق يمتد عبر العصور القديمة ، ويؤلف جزءا مهما من ذاكرته وهويته .

6 الفنون : عنصر أساسي من هوية المجتمع ، يمكن الأفراد والمجتمعات من التعبير عن هويتهم الثقافية ، عن طريق الرسم والموسيقى والنحت والمسرح وغيرها .

سؤال : تعمل على تعزيز التنوع الثقافي الذي يساعد على تعزيز التواصل بين المجتمعات ؟ الفنون

سؤال : وسيلة تمكن الافراد والمجتمعات من التعبير عن هويتهم الثقافية ، هي ؟ الفنون

\*\*\* تعد الفنون الاردنية ومظاهر العمران فيه ، تعبيرا عن هويته العربية .

1. التراث الثقافي ؟ هو كل ما خلفه لنا الآباء والأجداد من قيم وعادات وتقاليد وفنون وآثار .

2. تقسم عناصر التراث الوطني الى ( نوعان ) ؟

(1) التراث الثقافي المادي : الذي يشمل الآثار التاريخية والمواقع السياحية والمخطوطات والتحف والقطع النقدية ، التي جرت المحافظة عليها وصيانتها من قبل المؤسسات الرسمية المختصة  
مثل : دائرة الآثار العامة .

(2) التراث الثقافي غير المادي : الذي يشمل العادات والتقاليد ، والأغاني والأناشيد والموسيقى الوطنية ، والقصص الشعبية والأمثال ، والألعاب الشعبية ، والفنون والحرف التقليدية .

3. ما أوجه الشبه والاختلاف بين التراث الثقافي المادي وغير المادي ؟ .....

### أهمية التراث الثقافي

4. ابين أهمية التراث الثقافي ؟

\*\*\* يولف التراث الثقافي عنصرا أساسيا في هوية المجتمعات ، وجسرا يربط الماضي بالحاضر والمستقبل .



### من عناصر التراث الثقافي

5. من عناصر التراث الثقافي ؟

- 1 الأزياء الشعبية : هي الثياب التراثية التي نرتديها في المناسبات المختلفة .  
وتتنوع الأزياء الشعبية في وطني بتنوع المناطق الجغرافية ؛ فلكل منطقة جغرافية تصميمها الخاص للثياب التقليدية ، وتتسم بزخارفها وألوانها المتنوعة .
- 2 المأكولات الشعبية : تتنوع المأكولات الشعبية في وطني بتنوع مناطقها .  
\_ من أشهر المأكولات الشعبية ؟ المنسف ، و المكمورة ، و المسخن ، و المقلوبة ، و المجللة ، و الرشوف .
- 3 الألعاب الشعبية التقليدية : تعتمد الألعاب الشعبية على التشاركية والأداء والحركة ، وتساعد على صقل شخصية الأطفال ، والبناء السليم لأجسادهم ، وتعويدهم على التركيز على ممارستها .  
\_ من الأمثلة على الألعاب التي نمارسها في المدرسة أو الحي : الحجلة ، و شد الحبل ، و الغماية ، و الزرقطة .
- 4 الدبكات الشعبية : نمط من أنماط الفن الشعبي ، يمارس في العرس الأردني والاحتفالات الشعبية والوطنية ، وتصاحبها عادة الأهازيج والأغاني الشعبية الأردنية ، واستخدام عدد من الآلات الموسيقية  
♦ سجلت منظمة ( اليونسكو ) فن السامر أو الدحية على القائمة التمثيلية للتراث غير المادي للبشرية





5 المواقع الأثرية : يوجد عدد كبير جدا من المواقع الأثرية التي خلفتها الحضارات السابقة على أرض الأردن \_ من الأمثلة على المواقع الأثرية في الاردن ؟ البترا ، وجرش ، وقلعة الكرك ، وقلعة عجلون ، وكنيسة صياغة في مادبا ، وأم الجمال في المفرق .



الشكل (10): قلعة عجلون.



الشكل (9): قلعة الكرك.

◆ بلدة ام الجمال : تقع في محافظة المفرق ، وتعد امتداد لحكم الانباط شمالا . ادرجت على لائحة التراث العالمي في عام 2024 م ، واشتهرت باسم اللوحة السوداء ؛ لكثرة الصخور البركانية السوداء .

◆ السبب والنتيجة : السبب \_ ادراج ام الجمال على لائحة التراث العالمي النتيجة : .....

6 المباني التراثية القديمة : هي المباني والمنشآت المعمارية التي تتسم بقيمة تاريخية أو ثقافية ، مثل بعض المباني في عمان والسلط واربد .

7 النقود القديمة : تعد النقود القديمة ( المسكوكات ) عنصرا مهما من عناصر التراث الثقافي الأردني ، ومن أمثلتها :



الشكل (15): أوّل إصدار لِدِينَارِ الْأُرْدُنِيِّ فِي عام 1949م.



الشكل (14): دينار أموي شق في عمّانَ فِي عام 79هـ/ 699م.



الشكل (13): عملة بَطِيَّة لِلْمَلِكِ عُبَادَةَ الثَّانِي.

8 الحرف التقليدية : هي الصناعات البسيطة التي تعتمد على المهارات اليدوية من دون استخدام الآلات الحديثة . وهي متوارثة عبر الأجيال ، وتشمل صناعة الفسيفساء والنسيج والفخار والحلي والقش .

9 الأمثال والأهازيج الشعبية :

الامثال : جمل صغيرة متوارثة عبر الأجيال ناتجة عن تجربة شعبية .  
الأهازيج الشعبية : نوع من النشيد الشعبي الغنائي الذي يردده الناس في مناسبتهم ؛ كالزواج والفرح بالمولود ، أو في موسم قطاف الزيتون وموسم الحصاد .

### المحافظة على التراث الثقافي

6. استنتج أهمية المحافظة على التراث الوطني ؟ تعد المحافظة على التراث واجبا وطنيا ومسؤولية فردية ومجتمعية ؛ لما له من أهمية في تعزيز الهوية الوطنية .

4. تشمل المحافظة على التراث الوطني ما يأتي ؟

تَرْمِيمُ الْمُدُنِ  
وَالْأَشْوَاقِ الْقَدِيمَةِ  
وَصِيَانَتُهَا.

تَنْظِيمُ حَمَلَاتِ  
التَّوْعِيَّةِ الْمُخْتَلِفَةِ؛  
لِلْمُحَافَظَةِ عَلَى  
التُّرَاثِ الثَّقَافِيِّ.

التَّرْوِيحُ لِلتُّرَاثِ  
الثَّقَافِيِّ الْأُرْدُنِيِّ،  
عَبْرَ قَنَاطِ التَّوَاصُلِ  
الْأَجْمَاعِيِّ وَوَسَائِلِ  
الإِعْلَامِ الْمُخْتَلِفَةِ.

إِقَامَةُ الْمَعَارِضِ  
لِعَرْضِ الْمُنْتَجَاتِ  
وَالْحِرَفِ الثَّقَلِيدِيَّةِ  
وَدَعْوِهَا.

تم .....